

ВРЕМЕНСКЕ ОДРЕДНИЦЕ

1. Колико месеци траје једна година?

2. Сваке _____ године фебруар има _____ дана.

3. Напиши датум рођења на три начина:

4. Који је по реду месец твог рођења? _____

5. Попуни табелу.

Годишња доба	Почетак (датум)

6. Колико дана има:

јануар _____ август _____

март _____ децембар _____

јун _____ април _____

7. Користи календар и пронађи ког дана је:

1. јануар _____

8. март _____

15. јул _____

21. септембар _____

11. новембар _____

30. децембар _____



8. Колико има:

среда у марту _____ четвртака у јуну _____

Летњи месеци су:

Зимски месеци су:

9. Колико је тачно сати показује нам _____ својим казаљкама на којем велика казаљка показује _____ а мала _____ .

10. Напиши нове речи користећи реч ЧАС.


_____ ЧАС _____
_____ _____
_____ _____

11. Поред датих сати напиши доба дана.


10:25 _____ 13:00 _____

9:40 _____ 19:40 _____

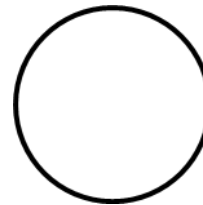
12. Нацртај време које се налази испод сваког сата:



10:15



22:05



15:30

