


## ВРЕМЕНСКЕ ПРИЛИКЕ

1. Шта су годишња доба?


---

---


2. У датом квадрату нацртај нешто што одликује дата годишња доба.




пролеће



лето



јесен



зима

3. а) Чиме меримо температуру ваздуха?

---

б) Којом мерном јединицом изражавамо температуру ваздуха?

---

4. Шта је метеорологија?

---

5. Наведи разлике у временским у равничарским и планинским крајевима када је:

пролеће \_\_\_\_\_

---

лето \_\_\_\_\_

---



6. Да ли је праћење временских прилика важно за човека? Објасни.

---

---

7. Наведи занимања људи којима су важни тачни подаци о временској прогнози.

---

8. Које годишње доба има највише падавина?


---

9. Шта утиче на временске прилике у неком крају?

---

---

10. Испод сваког знака напиши коју временску прилику приказује.



---

---

---

