

CRTANJE TROUGLA

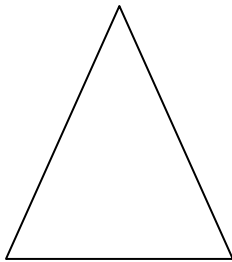
1. Trouglovi se prema dužini stranice dele na:

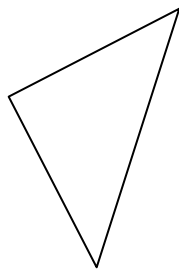
a) _____

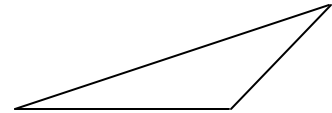
b) _____

c) _____

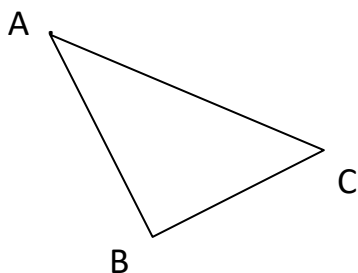
2. Za svaki dati trougao upiši kojoj vrsti pripada prema stranicama, a kojoj vrsti pripada prema uglovima.









3. Koristeći lenjir i šestar nacrtaj trougao FGH podudaran datom trouglu ABC.



4. Nacrtaj trougao DEF pomoću lenjira i šestara, ako je $DE = 2,5$ cm; $EF = 30$ mm i $FD = 3,5$ cm.

5. Date su duži AB i BC. Pomoću datih duži nacrtaj jednokraki trougao.



6. Nacrtaj jednakostranični trougao dužine stranice $a = 15$ mm.

