

## ЈЕДНАЧИНЕ СА САБИРАЊЕМ И ОДУЗИМАЊЕМ

1. Израчунај непознати број.

$X - 27 = 35$

$X =$

$X =$

Пр. \_\_\_\_\_

$39 + X = 76$

$X =$

$X =$

Пр. \_\_\_\_\_

$87 - X = 48$

$X =$

$X =$

Пр. \_\_\_\_\_

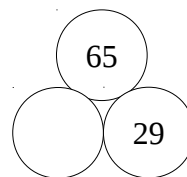
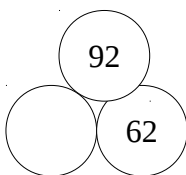
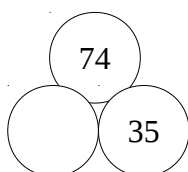
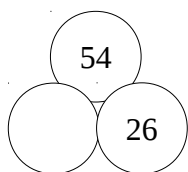
$X + 52 = 91$

$X =$

$X =$

Пр. \_\_\_\_\_

2. Упиши непознате умањиоце.



3. Мама је направила крофне. Када је тата појео 9, у вангли су остале 24 крофне. Колико је мама укупно направила крофни? Постави једначину и реши је.

Одговор: \_\_\_\_\_

4. Који број треба додати броју 45 да би се добио број 92?

5. Драгана је купила свеску за 49 динара и остало јој је 25 динара. Колико је новаца имала Драгана?

6. Попуни табелу.

X	12	21	34	15	10	57	66	48	73
X+9									

