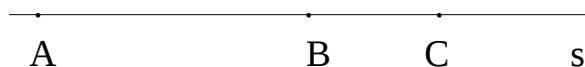


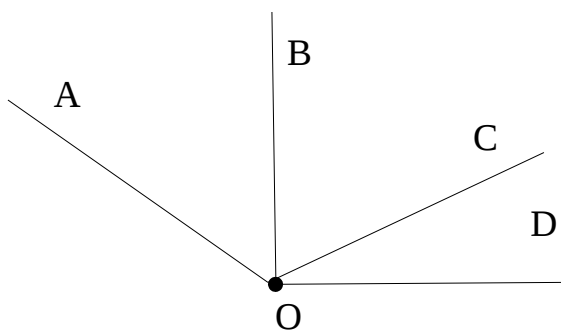
ПРАВЕ И УГЛОВИ

1 Нацртај две паралелне праве и обележи их како желиш.

2 Кроз дате тачке повуци праве које су нормалне на праву s и обележи их.



3 Напиши називе свих углова са цртежа.



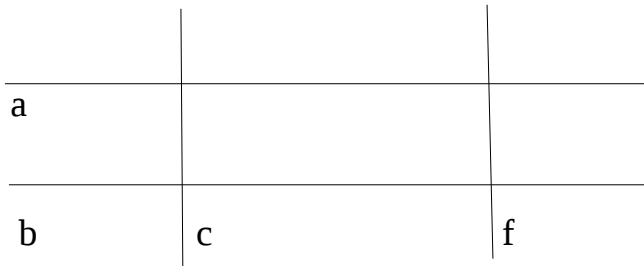
Прав угао: _____

Оштар угао: _____

Туп угао: _____



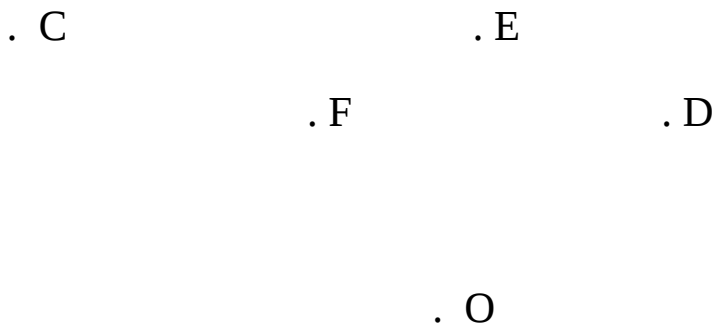
4. Запиши парове правих које су међусобно:



а) нормалне: _____

б) паралелне: _____

5. Нацртане су тачке О, Е, F, D, С. Нацртај такав угао коме је теме тачка О, а Е и С се налазе на крацима. Тачка F је у унутрашњој, а тачка D у спољашњој области.



7. Нацртај праве а и б које садрже тачку Е, тако да а буде паралелна са m, а б нормална на m.

